

# Ocenim se



1 Dopolni poved z ustreznim številskim podatkom.

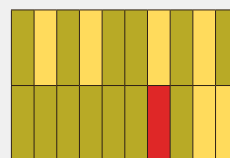
4T

a) \_\_\_\_\_ % pravokotnika je pobarvanega zeleno.

b) \_\_\_\_\_ % pravokotnika je pobarvanega rumeno.

c) \_\_\_\_\_ % pravokotnika je pobarvanega rdeče.

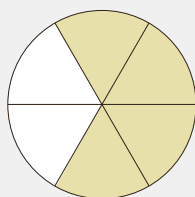
č) \_\_\_\_\_ % pravokotnika je pobarvanega.



2 Koliko odstotkov lika je pobarvanega? Pri računanju lahko uporabiš žepno računalno. Rezultat zaokroži na eno decimalno mesto natančno.

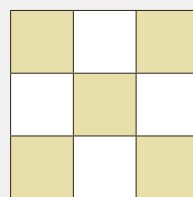
4T

a)



Odstotek: \_\_\_\_\_

b)



Odstotek: \_\_\_\_\_

3 Izpolni manjkajoča mesta v preglednici. Ulomek zapiši v okrajšani obliki.

5T

Ulomek	$\frac{2}{5}$				$\frac{3}{2}$
Odstotek		24 %		7,5 %	
Decimalno število			0,9		

4 Izračunaj ustrezni delež. Upoštevaj merske enote.

6T

a) 75 % od 7,2 kg = \_\_\_\_\_ dag

b) 80 % od 1,5 km = \_\_\_\_\_ m

5 Hlače se pri prvem pranju skrčijo za 5 %. Kako dolge so hlače po prvem pranju, če nove merijo 60 cm?

5T

Odgovor: \_\_\_\_\_



6 Reši enačbo: 65 % od  $x = 520$ .

5T

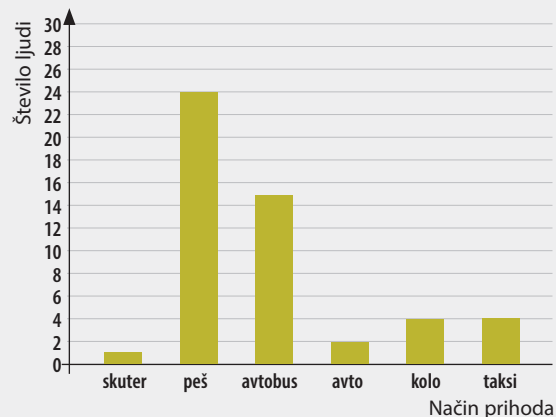
$x =$  \_\_\_\_\_

\*7 Oglej si prikaz in odgovori.

5T

a) Koliko ljudi je sodelovalo v anketi? \_\_\_\_\_

b) Koliko odstotkov vprašanih ljudi je prišlo na koncert peš?



c) Koliko odstotkov vprašanih ljudi s svojim načinom prihoda na koncert ni prispevalo k varovanju okolja?

č) Kateri način prihoda na koncert je najmanj zastopan in koliko odstotkov predstavlja?

\*8 Udeleženci čistilne akcije so čistili strugo potoka. Prvi dan so očistili 40 % struge, drugi dan četrtno celotne struge, za tretji dan jim je ostalo še 14 kilometrov.

4T

a) Koliko kilometrov meri celotna struga?      b) Kateri dan so očistili največ? Koliko kilometrov?

Odgovor a): \_\_\_\_\_

Odgovor b): \_\_\_\_\_

\*9 V preglednici so prikazani podatki skupine 20 otrok, katero domačo žival imajo doma. Vsak ima doma natanko eno domačo žival.

7T

Ocena	Število otrok	Odstotek
kuščar	1	
hrček		10 %
pes	8	
papagaj		25 %
mačka		


a) Dopolni preglednico.

b) Koliko otrok ima doma mačko? \_\_\_\_\_

c) Katero žival ima doma največ otrok? \_\_\_\_\_

Koliko odstotkov celotne skupine ima to žival? \_\_\_\_\_

č) Rezultate domačih živali prikaži s tortnim prikazom. Ne pozabi na legendo.



\*\*10 Mobilni telefon stane 960 €, v to ceno je vključenih 22 % davka. Koliko stane telefon brez davka?

5T

Odgovor: \_\_\_\_\_

Možnih je 50 točk.

Blestim  
(45–50)



Sem na poti k  
vrhu (38–44)



Sem na dobri  
poti (30–37)



Dodatno vadam  
(25–29)



Poiščem pomoč  
(manj kot 25 točk)

